

令和 8 年度

中学校入学試験問題

社会

第 2 回 （2 月 2 日実施）

試験開始の合図があるまで試験問題は開かず、下記の注意をよく読んでおきましょう。

1. 問題は 1 ページから 9 ページまであります。足りないページや印刷のよく見えないページがあったときは、手をあげてください。
2. 解答用紙は問題冊子にはさんであります。答えはすべて解答用紙に記入してください。
3. 試験問題には受験番号・氏名を書く必要はありません。
4. 試験時間は 11 時 15 分から 11 時 45 分までです。
5. 地名・用語は、特別の指示がないかぎり、漢字で答えなさい。

1 次の文は、再生可能エネルギーの活用に積極的に取り組んでいる自治体について述べたものです。
あとの問いに答えなさい。

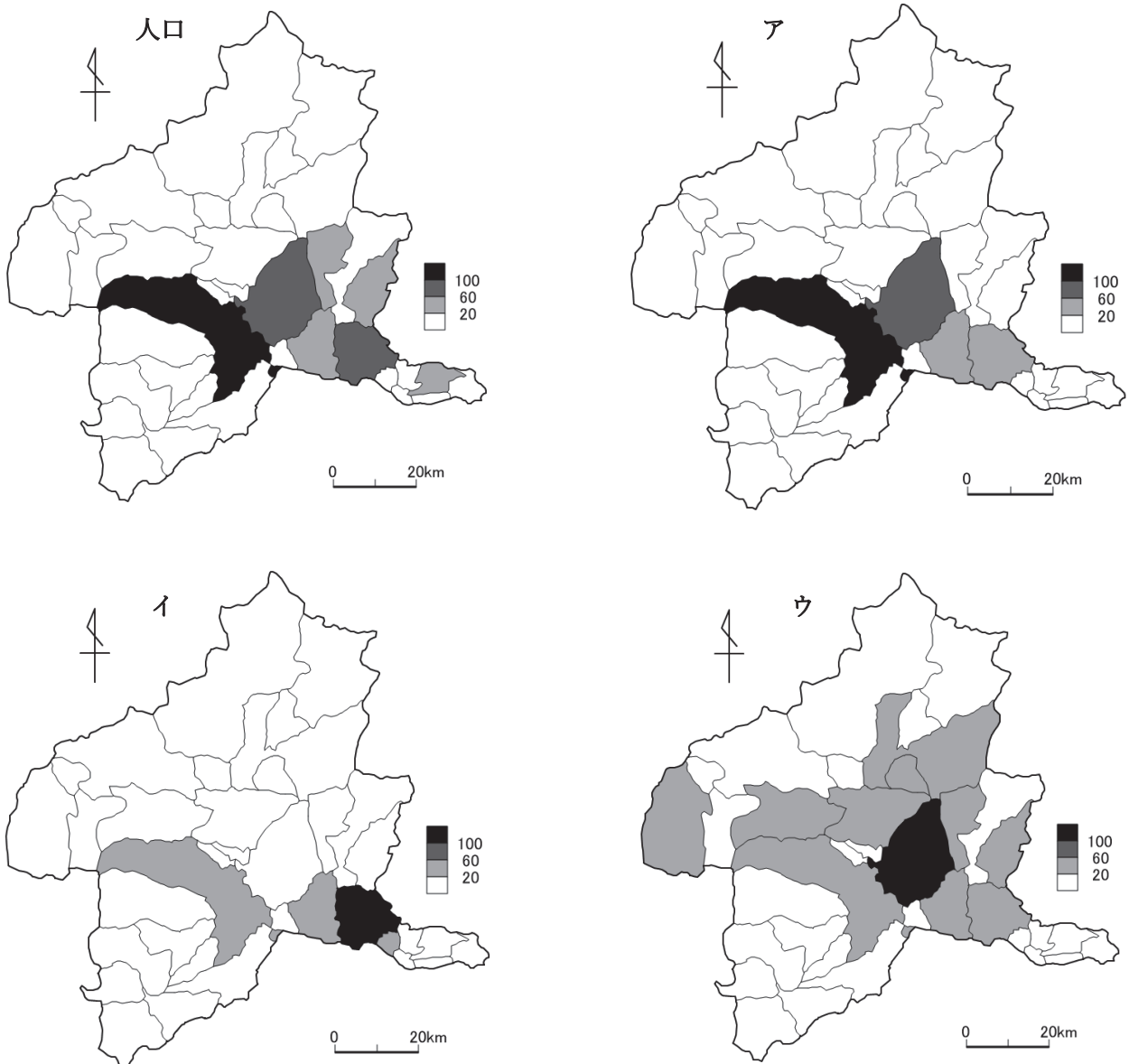
①群馬県②川場村は、村の面積の8割以上が③森林で、古くから林業がさかんな地域です。近年は、林業において、(あ)木材をチップにして、それを燃焼させることで電力を得ています。発電の際に出た熱を④イチゴの温室栽培に利用し、そのイチゴは特産品として⑤道の駅で販売されています。地元の⑥資源を有効に活用したこのような発電は、⑦化石燃料を用いた発電と比較して、(い)の発電方法といえます。

問1. 文中(あ)・(い)に入る語句としてあてはまるものを、それぞれアまたはイより選び、記号で答えなさい。

(あ) ア. 製材などに利用されなかった イ. 海外から積極的に輸入した

(い) ア. 大規模・集中型 イ. 小規模・分散型

問2. 下線部①について、次の図は、群馬県の市町村ごとの人口、農業産出額、製造品出荷額、小売業販売額について1位の市町村を100としたときの他の市町村の値を示したものです。i 農業産出額と ii 製造品出荷額にあてはまる図をア～ウよりそれぞれ選びなさい。



人口は2024年、それ以外は2022年／『データで見る県勢2025』より作成

問3. 下線部②について、図1は、この村の隣に位置する沼田市の地形図です。図2は、図1中●—○間の断面図を示したものです。この2つの図について述べた文中A～Cにあてはまる語句を、アまたはイよりそれぞれ選び、記号で答えなさい。また、(か)にあてはまる発電方法を答えなさい。

図1にみられない地図記号はA(ア. 図書館 イ. 老人ホーム)である。また、発電所の地図記号が複数あることが確認できるが、この発電所は、(か)発電所であると考えられる。図2から、この地域は、B(ア. 河岸段丘 イ. 扇状地)が発達していることが分かる。上久屋町は、片品川のC(ア. 右岸 イ. 左岸)に位置している。

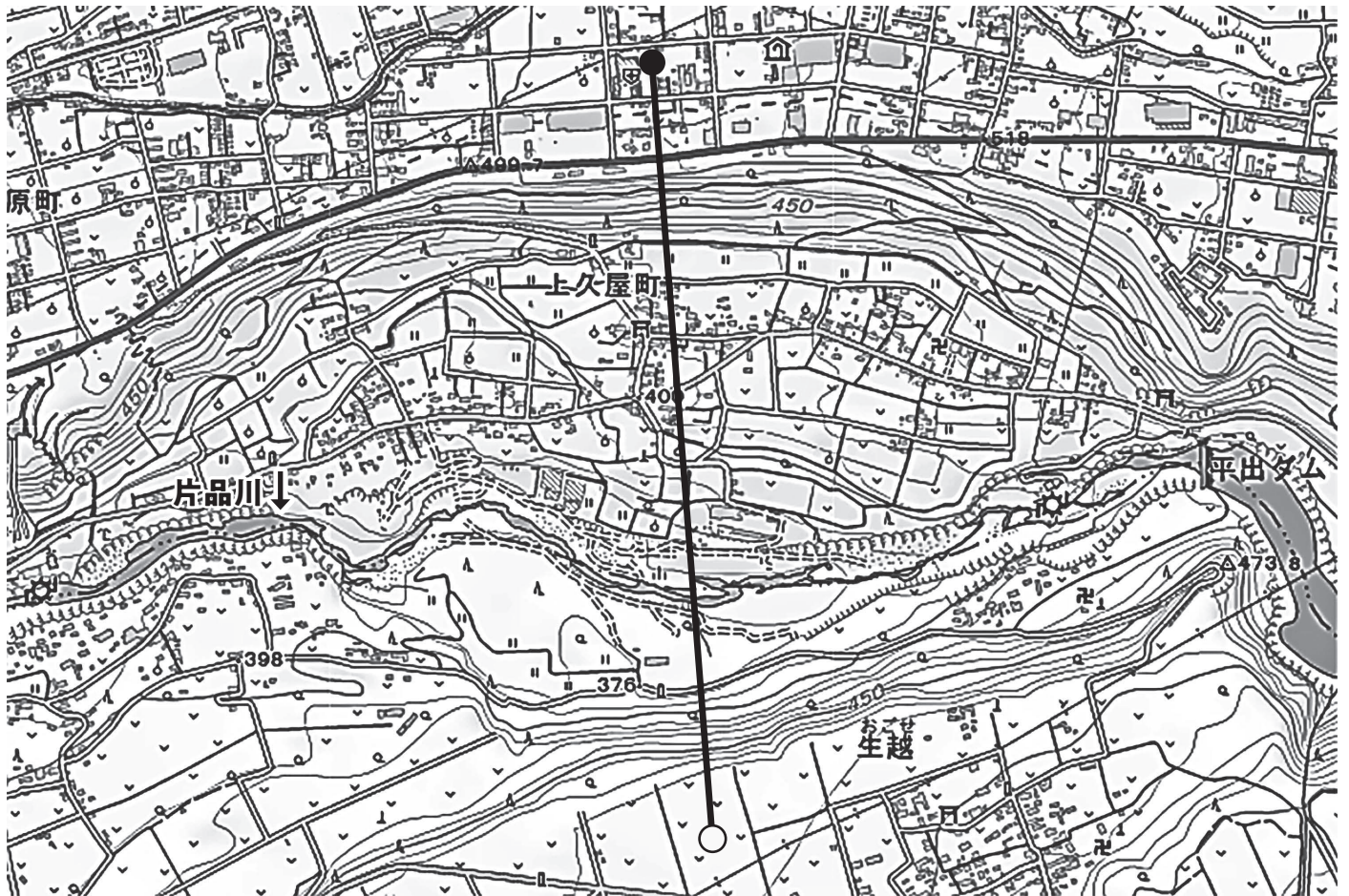


図1

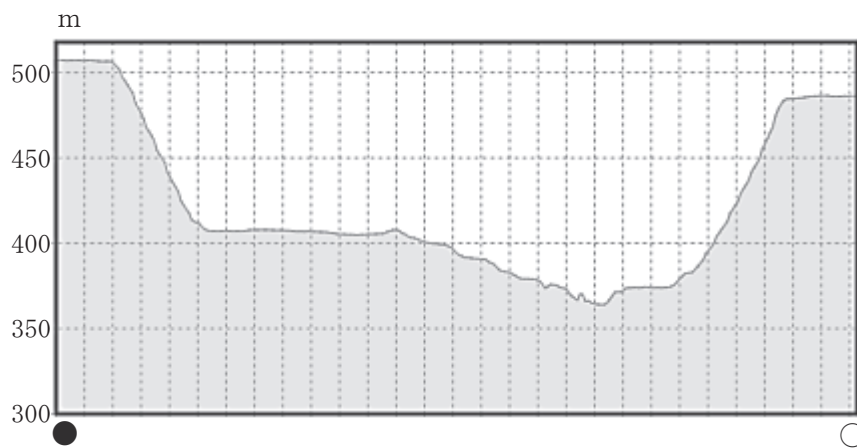


図2

図1・図2ともに地理院地図より作成

問4. 下線部③について、次のEとFは森林面積の割合が大きい県について説明したものです。EとFの県を答えなさい。また、EとFのそれぞれの県には「日本三大清流」とよばれる河川が流れています。その河川もあわせて答えなさい。

- E 端境期をねらった野菜栽培がさかんである
 県魚であるカツオを用いた料理が有名である
 今後、発生が想定される地震の対策が進められている
- F 繊維産業のほか、焼物や刃物が特産品となっている
 合掌造りで有名な集落は世界文化遺産になっている
 東海道新幹線の停車駅が1つある

問5. 下線部④に関連して、次の表は、さまざまな農産物の生産上位の道県を示したものです。

	(P)		(Q)		すいか		トマト		(R)	
1位	栃木県	15.2%	茨城県	25.8%	(さ) 県	15.3%	(さ) 県	19.5%	高知県	14.0%
2位	福岡県	9.9%	(さ) 県	16.6%	千葉県	12.3%	北海道	8.7%	(さ) 県	12.5%
3位	(さ) 県	7.2%	北海道	13.4%	山形県	9.4%	愛知県	6.5%	群馬県	9.5%
4位	愛知県	6.9%	山形県	6.7%	鳥取県	6.1%	茨城県	6.0%	福岡県	6.1%

統計は2023年／『データで見る県勢2025』より作成

(1)表中(P)～(R)にあてはまる農作物をア～ウよりそれぞれ選び、記号で答えなさい。

ア. イチゴ イ. ナス ウ. メロン

(2)表中(さ)に共通してあてはまる県を答えなさい。

問6. 下線部⑤について、道の駅の役割としては、道路を利用する人たちが休憩したり、地域の情報を発信したりすることがあげられますが、近年では、ほかにも新たな役割を担うようになっていきます。その新たな役割とはどのようなものか、関係している次の事ごらを参考にして、簡潔に答えなさい。

- ・大きな道路沿いに位置している
- ・広い駐車場など、広大な敷地を有している
- ・少量の水でも洗浄できるトイレを増設している
- ・太陽光パネルなどの自家発電設備を整備している

問7. 下線部⑥について、日本の重工業を支えてきた金属資源の1つとして鉄鉱石があげられます。日本で消費されている鉄鉱石のほとんどは輸入されています。日本が最もたくさんの鉄鉱石を輸入している国を答えなさい。また、鉱産資源を輸入に依存することについて述べた次のア～ウの文のうち、まちがっているものを1つ選び、記号で答えなさい。

- ア. 資源の輸入先の国との外交がとても重要である
 イ. 常に安い価格で海外の資源を手に入れることができる
 ウ. 資源を運ぶ際には、たくさんの化石燃料が消費されている

問8. 下線部⑦について、それを燃焼させると温室効果ガスが発生します。次の表は、主な国の温室効果ガス排出量(CO₂換算)の推移および1人あたりの燃料の燃焼によるCO₂排出量を示したものです。X～Zにあてはまる国を、下のア～ウよりそれぞれ選び、記号で答えなさい。

	温室効果ガス排出量(百万 t)		1人あたりの燃料の燃焼によるCO ₂ 排出量(t)2022年
	1990年	2022年	
X	5128	5102	13.81
Y	2515	10722	7.52
Z	689	2748	1.78

『日本国勢図会 2025/2026』より作成

ア. アメリカ合衆国

イ. インド

ウ. 中国

2 日本の米の歴史に関する次の文を読み、文中の空らん(あ)～(う)にあてはまる語句を答え、あとの問いに答えなさい。ただし、(い)は漢字4字で答えること。

①縄文時代の終わりごろに大陸から日本に伝わった稲作は、弥生時代になると日本各地に広まりました。稲作が始まると、②たぐわえの差によって身分が発生するなど、社会のありかたが変わっていきました。

長く保存できる稲は、税に適していました。③奈良時代になると、朝廷は6年ごとにつくった(あ)にもとづいて人々に口分田を与え、収穫した稲の一部を納めさせました。しかし、人々を(あ)に登録して税を課す仕組みは次第にくずれ、土地に税を課す仕組みが変わっていきました。

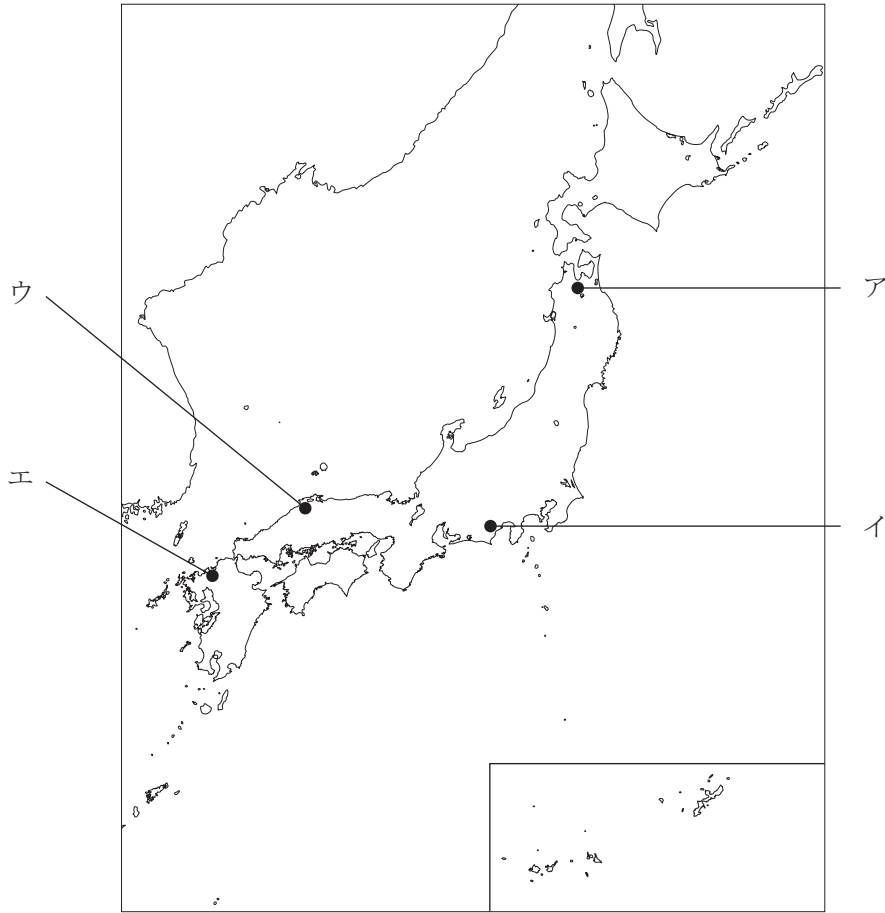
鎌倉時代になっても、④農民は領主への年貢として米を納めました。この時代には農業技術が進歩し、西日本では、稲を刈り取った後に麦を裏作としてつくるAが広まりました。また、Bを肥料として用いるようになりました。

安土桃山時代に全国を統一した⑤豊臣秀吉は、各地の土地を調査する(い)を行いました。これにより、土地の耕作者として登録された「百姓」という身分の人々が年貢を納める仕組みがつくられました。この仕組みは⑥江戸時代にも受け継がれましたが、幕府や藩の収入は米の収穫量に左右され、不安定でした。

明治時代になると、収入を安定させるため、政府は⑦地租改正を行いました。これにより、税は米ではなく現金で納められるようになり、政府の収入が米の収穫量に左右されることもなくなりました。⑧昭和時代になって起こった⑨日中戦争が長期化すると、⑩戦争優先の体制がつくられて米の配給制がしかれました。

⑪第二次世界大戦後の日本では、食事の洋風化が進み、米が余るようになりました。そこで、政府は1970年代から(う)政策を行って米の生産を調整しました。

問1. 下線部①について、縄文時代の終わりごろの水田跡が見つかった遺跡の位置を、次の図中のア～エから1つ選びなさい。



問2. 下線部②について、身分が発生したことを示す証拠として正しいものを、ア～エから1つ選びなさい。

- ア. 縄文時代に比べて重いやじりが使われるようになった。
- イ. 水辺の低地に集落がつくられるようになった。
- ウ. 薄手でかたく、文様の少ない土器がつくられるようになった。
- エ. 大量の副葬品をもつ墓がみられるようになった。

問3. 下線部③について、奈良時代に起きた出来事としてまちがっているものを、ア～エから1つ選びなさい。

- ア. 唐の都である長安にならって平城京がつけられた。
- イ. かな文字を用いた『古今和歌集』がつけられた。
- ウ. 歴史書である『古事記』や『日本書紀』が完成した。
- エ. 仏教の力で国を守るため、聖武天皇が大仏づくりを命じた。

問4. 下線部④について、年貢収入のもととなる土地をめぐる、地頭と荘園領主の争いが増えました。これを受けて、北条泰時が1232年に定めたきまりを答えなさい。

問5. 文中の空らん A ・ B にあてはまる語句の組み合わせとして正しいものを、ア～エから1つ選びなさい。

- ア. A - 二期作 B - 草や木の灰 イ. A - 二期作 B - 干した魚
- ウ. A - 二毛作 B - 草や木の灰 エ. A - 二毛作 B - 干した魚

問6. 下線部⑤について、豊臣秀吉の業績について記した次のア～エの文を、古い方から順に並べかえ、記号で答えなさい。

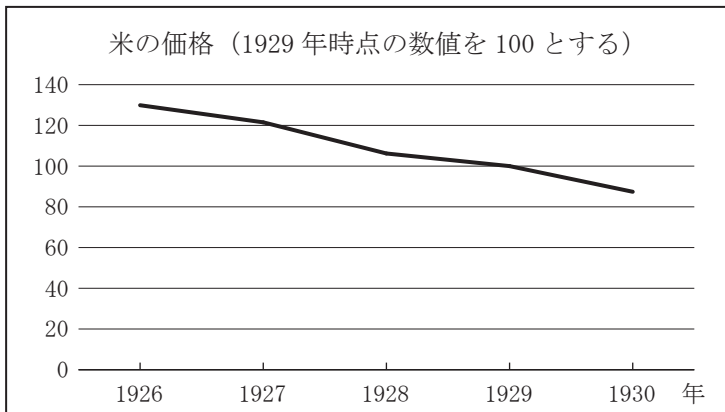
- ア. 北条氏の拠点である小田原城を攻め落とした。
- イ. 摂関家出身者以外では異例の関白となった。
- ウ. 明征服への協力を拒否した朝鮮に大軍を送った。
- エ. 山崎の戦いで明智光秀を破った。

問7. 下線部⑥について、江戸時代に上米の制や新田開発などの政策に取り組み、「米将軍」と呼ばれた人物を答えなさい。

問8. 下線部⑦について、地租改正よりも前に起きた出来事としてまちがっているものを、ア～エから1つ選びなさい。

- ア. 明治天皇が五か条の御誓文を公布した。
- イ. 政府が全国の藩を廃止して府や県を置いた。
- ウ. 鹿児島の上士の不満を背景に、西郷隆盛が反乱を起こした。
- エ. 大名がそれまで支配してきた土地と人民を天皇に返した。

問9. 下線部⑧について、右の会話は、昭和時代初期の農業について、下のグラフを見ながら交わされたものです。会話中の空らん にあてはまる文を考えて答えなさい。その際、「供給」という語句を必ず使用すること。



生徒：昭和時代初期には、農家が困窮したと教科書に書いてありました。これは、昭和恐慌の影響でしょうか？

先生：それだけでなく、第一次世界大戦後に進められた植民地からの米の移入や、1930年の豊作も原因と言われています。

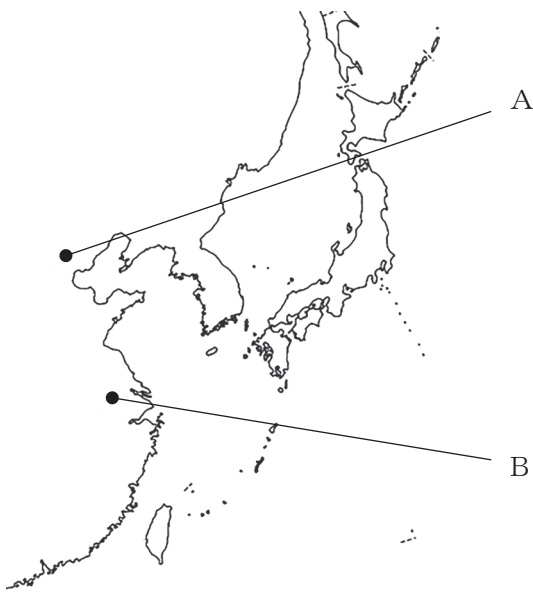
生徒：豊作なのに農家が困窮するんですか？

先生：そうなんです。それはなぜか、グラフから読み取れることを踏まえて考えてみてください。

生徒： から、農家が困窮したということですね！

三和良一・原朗編『近現代日本経済史要覧 補訂版』より作成

問 10. 下線部⑨について説明した次の文の空らん（ X ）・（ Y ）にあてはまる記号・語句の組み合わせとして正しいものを、下のア～エから1つ選びなさい。



左の図中A・Bは、中国の都市を示している。日中戦争は、図中（ X ）に近い（ Y ）で日中両軍が衝突したことから始まった。

- ア. X-A Y-柳条湖
- イ. X-B Y-柳条湖
- ウ. X-A Y-盧溝橋
- エ. X-B Y-盧溝橋

問 11. 下線部⑩について、政府が議会の承認なしに、戦争に必要な物資や人を動かすため、1938年に定めた法律を答えなさい。

問 12. 下線部⑪について、第二次世界大戦後に起きた出来事の説明としてまちがっているものを、ア～エから1つ選びなさい。

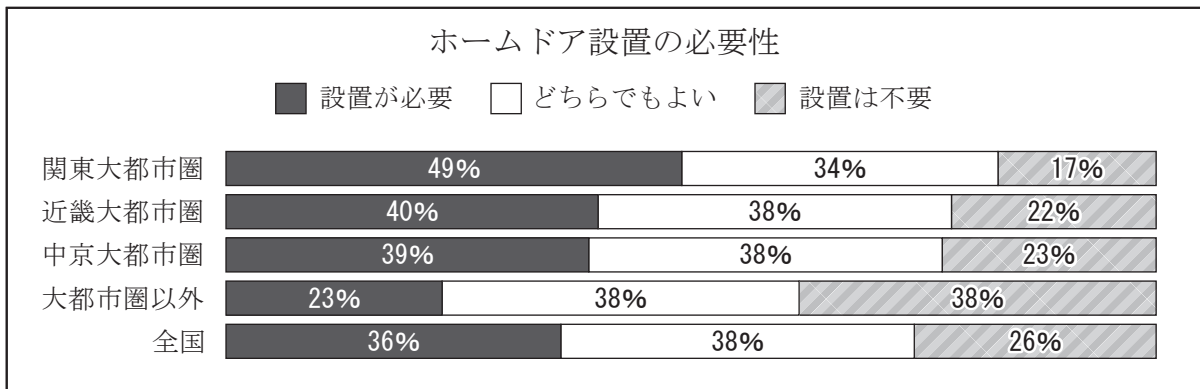
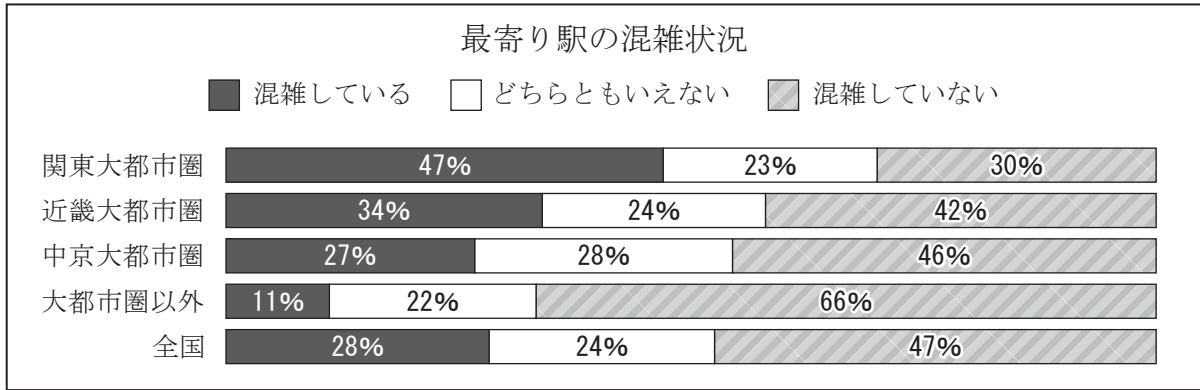
- ア. 佐藤栄作がアメリカと交渉し、沖縄返還を実現した。
- イ. 池田勇人が国民所得倍増計画を打ち出し、高度経済成長を支えた。
- ウ. 田中角栄が日中共同声明に調印し、中華人民共和国との国交を正常化した。
- エ. 鳩山一郎が北方領土問題を解決し、ソ連と平和条約を結んだ。

3 次は、学校の課題で半蔵門駅と市ヶ谷駅の周辺にある施設を調べた生徒たちの会話です。会話文を読んで、あとの問いに答えなさい。

- A 「今回の課題で①半蔵門駅の周りを調べたけど、②皇居がすぐ近くにあったよ。あと、警察署とか消防署みたいな③地方公共団体の機関がまとまっていたなあ」
- B 「私は市ヶ谷駅を調べたけど、少し離れたところに④防衛省があったね」
- A 「半蔵門駅の近くには⑤イギリス大使館があって、外から見ても自然が多そうだよ。ほら、写真を見て」
- B 「本当だね。反対に、市ヶ谷の⑥ルクセンブルクやドミニカ共和国の大使館はビルにあるんだよ。こっちはビルが多かったな。テレビスタジオのような大きなビルもあるし」
- A 「半蔵門にもテレビ局の本社があるよ。最近、テレビでドラマばかり見ているから、たまにはニュースも見なさいって、お母さんに怒られちゃったよ」
- B 「私たちの⑦生活に関わるニュースも多いし、⑧ちゃんと情報を得ないといけないね！」

問 1. 下線部①について、この駅にはホームドアが設置されています。
 (1)転落や電車との接触を防ぐため、(あ)省は、2030年までにホームドアをさらに増やす目標を定めました。空らんにあてはまる語句を4字で答えなさい。

(2)次は(あ)省による報告書の一部をもとにした資料で、鉄道利用者へのアンケート結果を示しています。資料を読み取った文として最も適切なものを、下のア～エから1つ選びなさい。



- ア. 最寄り駅が混雑している者やホームドアの設置が必要と考える者の割合は、すべての大都市圏が全国平均を上回っている。
- イ. 近畿大都市圏は、最寄り駅が混雑している者の割合が全国平均を上回り、ホームドアの設置が不要と考える者の割合も全国平均を上回る。
- ウ. 中京大都市圏は、最寄り駅が混雑していない者とホームドアの設置が不要と考える者の割合の差が、大都市圏の中で最も大きい。
- エ. 大都市圏以外は、意見を明確に述べない回答が多く見られ、2つのアンケートでそれらの回答が最大の割合となっている。
- 問2. 下線部②に関連して、次は天皇について述べた憲法の条文です。空らん(い)に共通してあてはまる語句を答えなさい。

第一条 天皇は、日本国の(い)であり日本国民統合の(い)であつて、この地位は、主権の存する日本国民の総意に^{もとづ}基く。

- 問3. 下線部③について、地方公共団体の仕組みについて述べた文として正しいものを、ア～エから1つ選びなさい。
- ア. 地方公共団体の首長は、地方議会の議決に対して拒否権を使うことができる。
- イ. 住民が地方議会の解散を請求するには、有権者の過半数の署名が必要である。
- ウ. 地方公共団体の首長は、地方議会の議員の中から住民の投票により選ばれる。
- エ. 地方議会の議員に立候補できるのは、参議院議員と同じ30歳以上の者である。

問4. 下線部④に関連して、

(1)密接な関係にある外国に対する武力攻撃が行われた場合、日本は直接攻撃されていなくても、この攻撃を阻止するために共同で反撃する権利を持っています。この権利を何といいますか。

(2)右の表は、2015年度および2025年度の日本の歳出を示したものです。表中ア～エには、防衛関係費、国債費、文教および科学振興費、地方交付税交付金のいずれかがあてはまります。このうち、防衛関係費にあたるものをア～エから1つ選びなさい。

	2015年度	2025年度
費目	割合(%)	割合(%)
社会保障関係費	32.7	33.2
ア	24.3	24.5
イ	16.1	16.4
ウ	5.6	4.9
エ	5.2	7.5
その他	16.1	13.4

問5. 下線部⑤について、イギリスに関する説明として正しいものを、ア～ウからすべて選びなさい。

- ア. 日本と同様に、議院内閣制をとっている。
- イ. EU から一度離脱したが、再び加盟した。
- ウ. 首都には、国際連合の本部が置かれている。

問6. 下線部⑥について、ルクセンブルクはGDP（国内総生産）が世界73位でありながら、一人あたりGDPは世界1位の国です。生徒たちはいくつかの国のGDPを調べ、その順位を次の表にまとめました。表中の空らん（ X ）・（ Y ）にあてはまる国を下のア～エから1つずつ選び、記号で答えなさい。

国名	GDPの順位	一人あたりGDPの順位
（ X ）	3位	18位
日本	4位	33位
ロシア	11位	67位
（ Y ）	31位	5位
ルクセンブルク	73位	1位

IMFの資料より、2023年の名目GDP（ドル換算）にもとづいて作成

- ア. イギリス
- イ. シンガポール
- ウ. ドイツ
- エ. ベトナム

問7. 下線部⑦に関連して、生徒たちは2学期に見たニュースを次のようにまとめました。文中の空らんにあてはまる語句を答えなさい。

与野党は（ う ）税の暫定税率を2025年12月31日に廃止することに合意したが、これによって失われる財源をどのように確保するかが課題となっている。

問8. 下線部⑧に関連して、この生徒たちは授業でメディアリテラシーという言葉を知りました。次のア～エのうち、メディアリテラシーが高い人物の発言として最も適切なものを1つ選びなさい。

- ア. 「あの政策は世論調査で賛成する人の方が多かったから、全国民の利益になるよね」
- イ. 「地球温暖化に関する記事を読んだけど、新聞ごとに意見や見方が少し違うんだね」
- ウ. 「面白いうわさ話を聞いたから、早くSNSで発信してもっと多くの人に知らせよう」
- エ. 「多くの情報で混乱しないように、一冊の本だけでジェンダーについて勉強しよう」

本校の許可無く、掲載内容の一部およびすべてを複製、転載または配布、印刷するなど、第三者の利用に供することを禁止致します。